

10వ తరగతి మోడల్ పేపర్.. సాంఘిక శాస్త్రం

సాంఘిక శాస్త్రం - పేపర్ 2

మార్కులు: 50

సమయం: 2-45 ని.

విద్యార్థులకు సూచనలు:

1. ప్రశ్నపత్రం చదవడానికి 15 నిమిషాలు, సమాధానాలు రాయడానికి 2 గంటల 30 నిమిషాల సమయం కేటాయించారు.
2. అన్ని ప్రశ్నలకు సమాధానాలను సమాధాన పత్రాలోనే రాయండి.
3. ఈ ప్రశ్నపత్రంలో మొత్తం నాలుగు విభాగాలు (సెక్షన్లు) ఉంటాయి.
4. అన్ని ప్రశ్నలకు సమాధానాలు స్పష్టంగా రాయాలి
5. సెక్షన్ - 4లో మాత్రమే అంతర్గత ఎంపిక ఉంటుంది

విభాగం - 1

గమనిక:

1. అన్ని ప్రశ్నలకు జవాబులు రాయాలి.
2. ప్రతి ప్రశ్నకు 1/2 మార్కు $12 \times 1/2 = 6$

1. మైబో భాషలో 'మైరా పైబీ' అనే మాటకు అర్థం ఏమిటి?
2. మొదటి ప్రపంచ యుద్ధంలో శక్తి కూటములకు సంబంధించి బిన్నమైన దాన్ని గుర్తించండి
బ్రిటన్ ఆస్ట్రీయా ఫ్రాన్స్ రష్యా
3. ఈ చిత్రంలోని వ్యక్తి నానాజాతి సమితి స్థాపనలో కీలక పాత్ర పోషించాడు. అతడు ఎవరు?




4. సరికాని జతను గుర్తించి రాయండి
మావో జెడంగ్ - చైనా
హోచిమిన్ - వియత్నాం
ముస్సోలిని - జర్మనీ
5. 'బ్రిటిష్ పాలకులను తరిమివేసేందుకు అతడు రహస్యంగా జర్మనీకి, అక్కడి నుంచి జపాన్ కు వెళ్లి 1942లో భారతీయ సైనికులతో ఒక సైన్యాన్ని ఏర్పాటు చేశాడు.' ఈ వాక్యంలో చర్చించిన జాతీయ నాయకుడు ఎవరు?
6. బాక్స్ 'ఎ'లో ఉన్న లోగో, బాక్స్ 'బి'లో ఉన్న ఏ అంతర్జాతీయ సంస్థకు చెందింది?



- WHO
- UNO
- UNICEF

7. క్విట్ ఇండియా ఉద్యమంలో గాంధీజీ ఇచ్చిన నినాదం?
8. మొదటి జతలోని రెండు అంశాల మధ్య గల సంబంధం ఆధారంగా రెండవ జతను పూరించండి
ఇండియ: పార్లమెంటరీ విధానం :: అమెరికా : ?



ఇచ్చిన సమాచారాన్ని పరిశీలించి కింది ప్రశ్నలకు సమాధానం రాయండి.

యునైటెడ్ ఫ్రంట్ సంకీర్ణ ప్రభుత్వంలో గల జాతీయ పార్టీ పేరు రాయండి

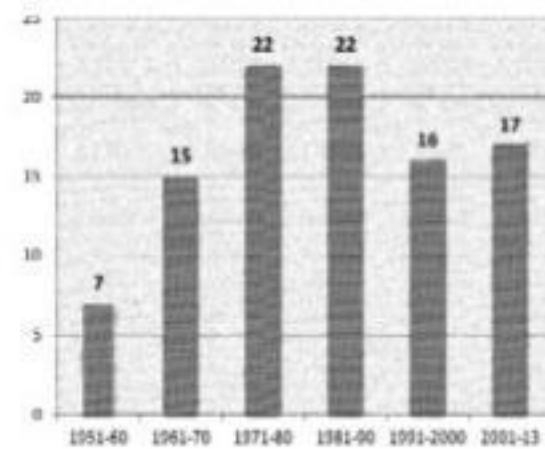
10. సమాచారాన్ని పూరించండి
అర్థిక మాంద్యం నాటి పరిస్థితులు:
నిరుద్యోగం - పెరిగింది
డిమాండ్ - తగ్గింది
ధరలు - ?
11. చంద్రునిపై కాలు మోపిన మొదటి వ్యక్తి ఎవరు?
12. ఇచ్చిన దేశాలను అవి ఉన్న స్థానం ఆధారంగా తూర్పు నుంచి పడమరకు అమర్చండి
భారతదేశం జపాన్ ఇంగ్లండ్ అమెరికా

విభాగం - 2

గమనిక:

1. అన్ని ప్రశ్నలకు జవాబులు రాయాలి.
2. ప్రతి ప్రశ్నకు 1 మార్కు $8 \times 1 = 8$

13. కింది ఉద్యమాలను సరైన కాలక్రమంలో అమర్చండి
క్విట్ ఇండియా ఉద్యమం
వందేమాతర ఉద్యమం
శాసనోల్లంఘన ఉద్యమం
14. కింది ఫోటోలో ఉన్న వ్యక్తికి సంబంధించిన అంశాలను గుర్తించి జవాబు పత్రంలో రాయండి
జాతి పిత
రాజ్యాంగ రచనా సంఘం అధ్యక్షుడు
రాజ్యాంగ సభ అధ్యక్షుడు
తొలి న్యాయ శాఖామంత్రి
15. ఇచ్చిన గ్రాపు ఆధారంగా కింది ప్రశ్నలకు సమాధానాలు రాయండి
ఏ ఏ దశాబ్దాల్లో రాజ్యాంగానికి సమాన సంఖ్యలో సవరణలు జరిగాయి?
భారతదేశంలో రాజ్యాంగ సవరణ ఎవరు చేస్తారు?



రేఖాచిత్రం వివరణ: 1950 జనవరి 26న రాజ్యాంగం అమల్లోకి వచ్చిన నాటి నుంచి 2013 వరకు దాదాపు 99 సవరణలు చేశారు.

16. ప్రాంతీయ పార్టీలకు ఏవైనా రెండు ఉదాహరణలు ఇవ్వండి
17. ఇచ్చిన మ్యాపు ఆధారంగా కింది ప్రశ్నలకు సమాధానాలు రాయండి



- ఆగ్నేయ ప్రాంతంలో నివసిస్తున్న తెగ పేరేమిటి?
ఈ దేశాన్ని వలసీకరించిన దేశం ఏది?
18. ప్రస్తుత ఐక్యరాజ్యసమితి సెక్రటరీ జనరల్ ఎవరు?
19. 'యుద్ధం వల్ల గెలిచిన దేశాలకు కూడా నష్టం వాటిల్లుతుంది' వ్యాఖ్యానించండి

10th Class New Pattern

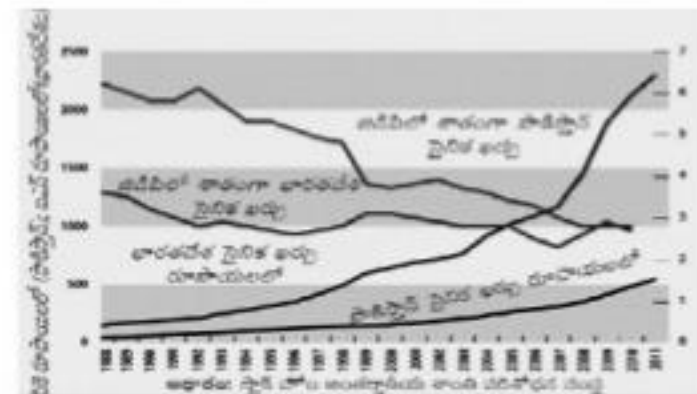
20. లోక్ అదాలత్ ప్రయోజనాలను తెలపండి

విభాగం - 3

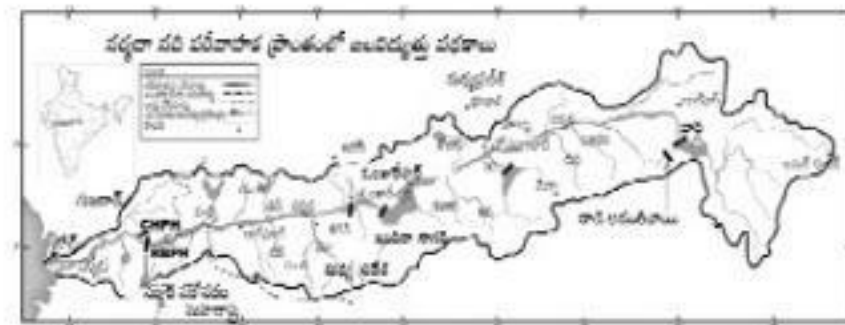
గమనిక:

1. అన్ని ప్రశ్నలకు జవాబులు రాయాలి.
2. ప్రతి ప్రశ్నకు 2 మార్కులు $8 \times 2 = 16$

21. సమాచార హక్కు చట్టం ప్రకారం సమాచారం వెల్లడి చేసేందుకు గల మినహాయింపులను తెలపండి
22. ఏక కేంద్ర, సమాఖ్య ప్రభుత్వ వ్యవస్థల మధ్య గల తేడాలను తెలపండి
23. భారతదేశం అలీన విధానాన్ని ఎందుకు స్వీకరించింది?
24. మార్క్స్ లూథర్ కింగ్ జూనియర్ ప్రసిద్ధ ఉపన్యాసం 'నాకొక కల ఉంది' సందర్భాన్ని రాయండి
25. ఇచ్చిన గ్రాపును పరిశీలించి కింది ప్రశ్నలకు సమాధానాలు రాయండి
రేఖా చిత్రం వివరణ: భారతదేశం, పాకిస్థాన్ల సైనిక ఖర్చు



- ఎ) ఈ సమాచారాన్ని ప్రచురించిన సంస్థ పేరేమిటి?
- బి) 2000 సంవత్సరం నాటికి ఏ దేశం తన జీడిపీల్లో ఎక్కువ శాతం సైన్యంపై ఖర్చు చేస్తుంది?
26. ఇచ్చిన మ్యాపును పరిశీలించి కింది ప్రశ్నలకు జవాబులు రాయండి



- ఎ) నర్మదా నది జన్మస్థానం ఏది?
- బి) నర్మదా నది పరివాహక ప్రాంతంలోని ఏవైనా రెండు జల విద్యుత్ కేంద్రాల పేర్లు రాయండి
27. అత్యవసర పరిస్థితి భారత ప్రజాస్వామ్యాన్ని వెనక్కు తీసుకువెళ్లిందని ఏ విధంగా చెప్పగలం?
28. సంస్థానాల విలీనంలో సర్దార్ వల్లభాయ్ పటేల్ నిర్వహించిన పాత్ర గురించి వివరించండి

విభాగం - 4

గమనిక:

1. అన్ని ప్రశ్నలకు జవాబులు రాయాలి.
2. ప్రతి ప్రశ్నకు అంతర్గత ఎంపిక ఉంది. వాటి నుంచి ఒకటి ఎంపిక చేసుకొని సమాధానం రాయాలి

3. ప్రతి ప్రశ్నకు 4 మార్కులు $5 \times 4 = 20$
29. ఇరవయ్యో శతాబ్దాన్ని తీవ్ర సంఘటనల యుగమని పిలవడానికి గల కారణాలను వివరించండి

లేదా

- దేశ విభజనకు దారితీసిన పరిస్థితులను వివరించండి
30. 'స్వాతంత్ర్యానంతరం మొదటి ముప్పై సంవత్సరాలు

అత్యవసర పరిస్థితితో ముగిసినప్పటికీ లాభ నష్టాల పట్టిక తయారు చేస్తే తప్పులు కంటే ఒప్పులే ఎక్కువ ఉన్నాయి'. వ్యాఖ్యానించండి

లేదా

'సామాజిక మార్పునకు దోహదం చేసే అనేక అంశాలు రాజ్యాంగంలో ఉన్నాయి. దీనికి ఒక మంచి ఉదాహరణ రాజ్యాంగంలో షెడ్యూల్డ్ కులాలు, షెడ్యూల్డ్ తెగలకు రిజర్వేషన్లు కల్పించటం. ఈ వర్గాలు తరతరాలుగా ఎదుర్కొన్న అన్యాయాలను అధిగమించేందుకు వారి ఓటు హక్కుకు సరైన అర్హాన్ని ఇచ్చేందుకు కేవలం సమానత్వపు హక్కు ఇస్తే సరిపోవని రాజ్యాంగ నిర్మాతలు విశ్వసించారు. వాళ్ల ప్రయోజనాలను ప్రోత్సహించేందుకు ప్రత్యేక రాజ్యాంగ చర్యలు అవసరం. అందుకే షెడ్యూల్డ్ కులాలు, షెడ్యూల్డ్ తెగల ప్రయోజనాలను కాపాడేందుకు శాసనసభా స్థానాల రిజర్వేషన్ వంటి అనేక ప్రత్యేక అంశాలను రాజ్యాంగ నిర్మాతలు కల్పించారు. ఈ వర్గాలకు ప్రభుత్వ రంగ ఉద్యోగాల్లో రిజర్వేషన్లు కూడా రాజ్యాంగం అవకాశం కల్పించింది.' వ్యాఖ్యానించండి

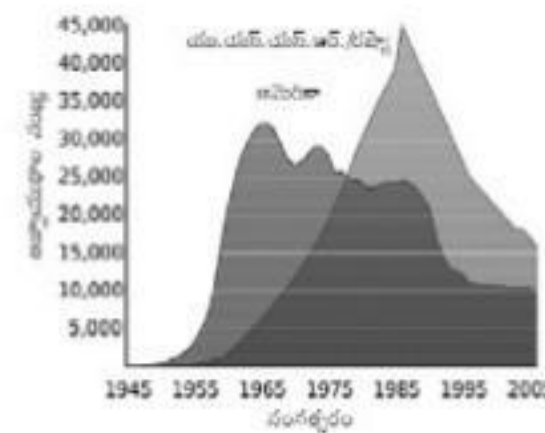
31. ఇచ్చిన కాల నిర్ణయ పట్టికను పరిశీలించి కింది



- ప్రశ్నలకు సమాధానాలు రాయండి
- ఎ) మొదటి ప్రపంచ యుద్ధం తరువాత శాంతి స్థాపనకు ఏర్పాటు చేసిన అంతర్జాతీయ సంస్థ ?
- బి) హిట్లర్ జర్మనీకి చాన్సలర్ గా ఏ సంవత్సరంలో అవతరించాడు?
- సి) యుద్ధం ముగియక ముందే రష్యా మొదటి ప్రపంచ యుద్ధం నుంచి ఎందుకు విరమించుకుంది? ఎందుకు?
- డి) మొదటి ప్రపంచ యుద్ధం ఏ శాంతి సమావేశంతో ముగిసింది?

లేదా

ఇచ్చిన గ్రాపును పరిశీలించి మీ విశ్లేషణను రాయండి



32. భారత్ - పాకిస్థాన్ సంబంధాల గురించి వివరించండి

లేదా

- ప్రస్తుతం ప్రపంచంలో గ్రీన్ పీస్ వంటి పర్యావరణ ఉద్యమాల ప్రాముఖ్యతను వివరించండి
33. మీకిచ్చిన ప్రపంచ పటంలో కింది వాటిని గుర్తించండి

1. నాజీ పార్టీ పాలనలో ఉన్న దేశం
2. ముస్సోలిని మాత ఆదేశం
3. అణుబాంబులను మొదటగా ఉపయోగించిన దేశం
4. ఆఫ్రికా ఖండపు ఉత్తర సరిహద్దు

లేదా

1. బ్రెజిల్
2. వియత్నాం
3. చైనా
4. ఈజిప్టు

